
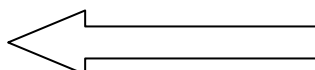


ساعات شروع : ۸ صبح		رشته : کلیه رشته ها		سوالات امتحان درس : جغرافیای ایران و استان شناسی	
مدت امتحان : ۷۰ دقیقه		تاریخ امتحان : ۹۵/۱۰/۹۵		پایه دهم - دوره دوم متوسطه	
نمره به عدد :		اداره آموزش و پرورش شهرستان بردسکن نوبت دی ماه		صفحه : ۴ سوالات : ۲۵	
نمره به حروف :		نام دبیر: یعقوب روشندل		سال تحصیلی ۹۵-۹۶ دبیرستان : سید حمید حسینی	
بارم	سوالات جغرافیای ایران (پاسخ نامه دارد)				ردیف
۱	<p>درست یا نادرست بودن جملات زیر را مشخص کنید .</p> <p>الف) در هر مکان، پدیده های مختلف بر یکدیگر تاثیر گذاشته، ولی خود از هم تاثیر نمی پذیرند . ب) مرحله آخر یک پژوهش، نتیجه گیری و ارائه پیشنهاد است . ج) فعالیت های آتش فشانی در دوره ی ترشیاری، سبب شکل گیری قله دماوند شده است . د) در اطراف خط استوا به دلیل گرم بودن و صعود هوا، کمربند کم فشار حاره ای تشکیل می شود .</p>				۱
۱	<p>گزینه صحیح را انتخاب کنید .</p> <p>الف) از بین شش سوال اساسی در جغرافیا، کدام مورد بر ماهیت هر پدیده دلالت دارد ؟ ص ۷ (۱) کجا (۲) چه موقع (۳) چه چیز (۴) چرا ب) کدام یک از گزینه های زیر را <u>نمی توان</u> از نشانه های تغییرات اقلیمی دانست ؟ ص ۲۹ (۱) بروز توفان ها (۲) تغییرات کاربری اراضی (۳) خشکسالی ها (۴) تغییر در الگوی پراکندگی ریزش های جوی ج) علت کمی بارش در سواحل جنوبی کشور چیست؟ ص ۳۸ (۱) عدم امکان صعود هوای مرطوب (۲) ارتفاع و جهت نا همواری ها (۳) جهت حرکت توده های هوا (۴) گرم بودن هوا د) محل قرارگیری هر مکان، نسبت به پدیده های..... یا پیرامون خود، موقعیت نسبی آن مکان است. ص ۱۴ (۱) انسانی - اجتماعی (۲) انسانی - انسانی (۳) طبیعی - طبیعی (۴) طبیعی - انسانی</p>				۲
۱	<p>در جاهای خالی کلمات مناسب بنویسید .</p> <p>الف) واژه جغرافیا برای اولین بار توسط ارائه شد . ص ۲ ب) حذف اطلاعات غیر ضروری در مرحله پژوهش آغاز می شود . ص ۱۱ ج) علت فعالیت چشمه های جوشان (گل فشان ها) فعالیت های می باشد . ص ۲۸ د) به مجموعه عناصر جوی غالب در یک منطقه در دراز مدت، گفته می شود .</p>				۳
۰/۷۵	<p>در هر یک از جملات زیر، کلمه مناسب داخل پرانتز را انتخاب کنید .</p> <p>الف) از شمال ایران (طول جغرافیایی - عرض جغرافیایی) ۳۹ درجه می گذرد . ص ۱۴ ب) در استان (هرمزگان - آذربایجان شرقی) زاویه تابش مایل تر ، در نتیجه هوا سردتر است . ج) دشت نهاوند یکی از نمونه های دشت (تراکمی - فرسایشی) می باشد . ص ۲۹</p>				۴
۰/۷۵	<p>الف) برای ناحیه جنگلی خزری یک عملکرد منفی و برای ناحیه بیابانی یک عملکرد مثبت بنویسید. ب) کدام عملکرد انسان در ارتباط با محیط طبیعی، تعادل محیط را در طولانی مدت حفظ می کند؟</p>				۵




"ادامه سوالات در صفحه دوم"

ساعات شروع : ۸ صبح		رشته : کلیه رشته ها		سوالات امتحان درس : جغرافیای ایران و استان شناسی										
مدت امتحان : ۷۰ دقیقه		تاریخ امتحان : ۹۵/۱۰/		پایه دهم - دوره دوم متوسطه										
نمره به عدد :		اداره آموزش و پرورش شهرستان بردسکن نوبت دی ماه		صفحه : ۴ سوالات : ۲۵										
نمره به حروف :		نام دبیر: یعقوب روشندل		سال تحصیلی ۹۵-۹۶ دبیرستان : سید حمید حسینی										
۰/۵	۶	هر یک از موارد سمت راست به کدام شاخه اصلی جغرافیا ارتباط دارد ؟ ص ۳ الف (ژئومورفولوژی ب) نقشه کشی (کارتوگرافی) ۱ - فنون جغرافیایی ۲ - جغرافیای طبیعی ۳ - جغرافیای انسانی												
۰/۷۵	۷	هر یک از عبارات های زیر، به کدام روش پژوهش ارتباط دارد ؟ ص ۹ - ۱۰ - ۱۱ الف (این مرحله از پژوهش نقش راهنما را دارد . ب) پژوهشگر ضمن ارائه دلایل علمی و منطقی به تأیید یا رد فرضیه یا فرضیه های خود می پردازد. ج) مطالعه سابقه و پیشینه مسئله و نتایج پژوهش دیگران در این مرحله، مورد نیاز پژوهشگراست .												
۰/۵	۸	هر یک از موارد زیر، به کدام روش گردآوری اطلاعات ارتباط دارد ؟ ص ۱۰ الف (مصاحبه با افراد با تجربه در مورد کشت پنبه ب) تصویر ماهواره ای استان خراسان رضوی												
۰/۷۵	۹	الف (مهم ترین عامل تشخیص و جدایی هر کشور از کشور همسایه چیست ؟ ص ۱۹ ب) دسترسی به آب های آزاد برای هر کشوری، علاوه بر امکان ارتباط با سایر نقاط جهان، از چه نظر دارای اهمیت است ؟ ص ۲۰												
۱	۱۰	مجاورت با خلیج فارس و تنگه هرمز، چه اهمیتی برای کشورمان دارد ؟ (ذکر چهار مورد) ص ۱۹												
۱	۱۱	منطقه کوهستانی تالش را با منطقه کوهستانی البرز در موارد زیر، مقایسه کنید . ص ۲۴												
		<table border="1"> <thead> <tr> <th>موارد</th> <th>الف - تالش</th> <th>ب - البرز</th> </tr> </thead> <tbody> <tr> <td>جهت شیب</td> <td></td> <td></td> </tr> <tr> <td>جهت چین خوردگی</td> <td></td> <td></td> </tr> </tbody> </table>				موارد	الف - تالش	ب - البرز	جهت شیب			جهت چین خوردگی		
موارد	الف - تالش	ب - البرز												
جهت شیب														
جهت چین خوردگی														
۱	۱۲	با توجه به منطقه کوهستانی زاگرس به سوالات پاسخ دهید . ص ۲۶ الف (این رشته کوه از برخورد کدام صفحات به وجود آمده است ؟ ب) طبیعت و انسان در ایجاد و گسترش کدام عامل طبیعی تغییر دهنده زاگرس، در حال حاضر موثر است ؟ ج) چرا سد گتوند در منطقه زاگرس در محل مناسبی احداث نشده است ؟												
۰/۷۵	۱۳	سه مورد از ارزش های اقتصادی دشت ها را بیان کنید . ص ۳۰												
۰/۷۵	۱۴	عوامل ناشی از موقعیت جغرافیایی بر آب و هوای کشور را نام ببرید . ص ۳۶												
۰/۷۵	۱۵	هر عبارت به کدام علت گوناگونی آب و هوای ایران ارتباط دارد ؟ ص ۳۷ - ۳۸ - ۳۹ الف (این عامل در تابستان به داخل کشور پیشروی کرده و مانع ریزش باران در دوره گرما در کشور می شود . ب) این عامل موجب بارش های بیش تر در دامنه های شمالی البرز و دامنه های غربی زاگرس شده است . ج) ریزش باران های سیلابی در فصل تابستان با منشا اقیانوس هند به این عامل ارتباط دارد .												



ساعات شروع : ۸ صبح		رشته : کلیه رشته ها		سوالات امتحان درس : جغرافیای ایران و استان شناسی	
مدت امتحان : ۷۰ دقیقه		تاریخ امتحان : ۹۵/۱۰/		نام و نام خانوادگی	
نمره به عدد :		اداره آموزش و پرورش شهرستان بردسکن نوبت دی ماه		صفحه : ۴ سوالات : ۲۵	
نمره به حروف :		نام دبیر: یعقوب روشندل		سال تحصیلی ۹۵-۹۶ دبیرستان : سید حمید حسینی	
۰/۵	الف (چرا در گذشته، مردم انرژی کمتری مصرف می کردند؟ ص ۴۳ ب (کدام شاخه دانش جغرافیا، در زمینه پراکندگی تأثیرات عوامل محیطی بر سلامت انسان مطالعه می کند؟				۱۶
۰/۵	الف (عامل اصلی شکل گیری دشت کویر چیست؟ ص ۴۳ ب (در وضعیتی که با افزایش ارتفاع، دمای هوا به طور ناگهانی افزایش یابد کدام پدیده رخ می دهد؟				۱۷
۱	الف (یک مورد از پیامدهای ریزگرد ها در کشور را بنویسید . ص ۴۵ ب (روش های مناسب مقابله با ریز گرد ها را بیان کنید؟ (ذکر ۳ مورد کافی است) ص ۴۶				۱۸
سوالات استان شناسی خراسان رضوی					
۰/۵	الف (کلات نادری با شهرت تاریخی خود نمونه ای از یک است . ب (عامل اصلی بارش استان توده هوای می باشد .				۱۹
۰/۷۵	مهم ترین کوه های بخش شمالی نواحی کوهستانی استان را نام ببرید؟				۲۰
۱	پیامد های تغییر اقلیم در استان را ذکر کنید . (۴ مورد کافی است)				۲۱
۰/۷۵	مشکلاتی مانند آلودگی هوا، آب و خاک، چشم انداز و آلودگی صوتی ناشی از کدام عوامل در استان می باشد؟				۲۲
۰/۷۵	راهکار هایی برای رفع مشکلات منابع آب استان، بیان کنید . (ذکر ۳ مورد)				۲۳
۰/۵	کدام عوامل موجب فرسایش شدید خاک و حرکت ماسه های روان شده است؟ (ذکر دو مورد)				۲۴
۱/۵	شماره هر یک از موارد خواسته شده را با توجه به نقشه ها، پیدا کرده، در مقابل آن بنویسید . قله سبلان (.....) دریاچه ارومیه (.....) جلگه گیلان (.....) کوه های تالش (.....) کشور همسایه با استان از سمت شمال شرقی (.....) استان هم مرز با استان خراسان رضوی از سمت غرب (.....)				۲۵



ساعات امتحان درس : جغرافیای ایران و استان شناسی	رشته : کلیه رشته ها	ساعت شروع : ۸ صبح
نام و نام خانوادگی	پایه دهم - دوره دوم متوسطه	تاریخ امتحان : ۹۵/۱۰/۹۵
صفحه : ۴	سوال : ۲۵	اداره آموزش و پرورش شهرستان بردسکن نوبت دی ماه
دبیرستان : سید حمید حسینی	سال تحصیلی ۹۵-۹۶	نام دبیر: یعقوب روشندل
		نمره به عدد :
		نمره به حروف :

نقشه ها :

نقشه شماره ۲



نقشه شماره ۱



نقشه شماره ۳



۲۰	جمع نمره	"موفق باشید"
----	----------	--------------